

# B 算 数 18

解 答 用 紙

受験番号	氏 名

(注意) 式や図や計算などは、他の場所や裏面などにかかないで、すべて解答用紙のその問題の場所にかきなさい。

1 (1)

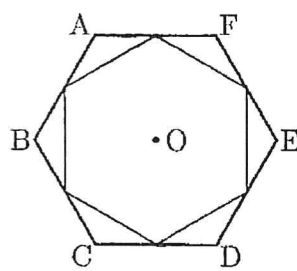
(2)

(3)

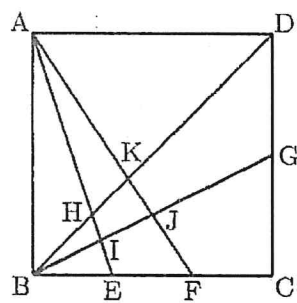
(4)

(5)

(6)



(7)



(1)	$\frac{2}{3}$
(2)	30 通り
(3)	2.2 倍
(4)	2.43 %
(5)	180 cm <sup>3</sup>
(6)	6.75 cm <sup>2</sup>
(7)	(i) 三角形 AIJ:四角形 ABCD = 3 : 28
	(ii) 四角形 HIJK:四角形 ABCD = 9 : 280


C 算 数 18

解 答 用 紙

受験番号	氏 名

(注意) 式や図や計算などは、他の場所や裏面などにかかないで、すべて解答用紙のその問題の場所にかきなさい。

2



(1)	31.4	m
(2)	左から 144	番目

3

(1)	4 ~ 10
(2)	7 ~ 16 18 ~ 22
(3)	8 通りの並べ方があり、 それぞれ 3, 5, 8, 9, 15, 24, 25, 40 種類の整数を使う。

(3) の種類を示す整数は小さい順に並べること。